

Prénom : .....

Date : .....

# LES DIZAINES ET LES UNITÉS

1- **Compte** les noisettes en **groupant par 10**.

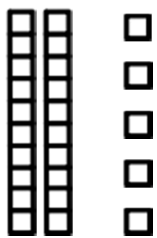
D	U
(dizaines)	(unités)
....	....

Il y a 

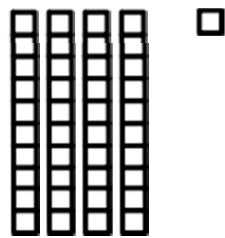
D	U
.	.

 noisettes.


2- **Écris** le nombre de cubes.



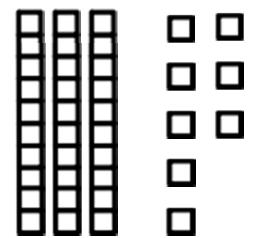
D	U
.	.



D	U
.	.

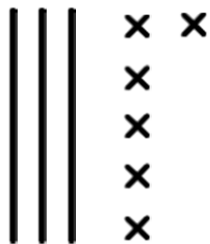


D	U
.	.



D	U
.	.

3- **Dessine** comme dans l'exemple.



36

54

13

40

4- **Colorie** de la **même couleur** les yeux des robots qui portent le **même nombre**.

